



Aluno:						
Professor:	RITA		Turma:	7A/7B	Data:	
Atividade:	Exercício			GEOGRAFIA		

Ref. semana : 11 a 15/05

Recomendações referente ao trabalho de geografia:

*** Para melhor organização de tempo no período da aula on line e apresentação da pesquisa deverá ser individual.**

- Data :18/05/2020

Trabalho individual

Escolha o imigrante: Alemães, italianos, árabes, africanos,japoneses,portugueses, franceses.

E faça a pesquisa e registre no caderno:Influência cultural,gastronômica,religiosa e vocabulário que os imigrantes contribuíram no Brasil.

Exercícios

Questão 1.O Brasil é um país populoso, mas pouco povoado. Explique essa afirmação.


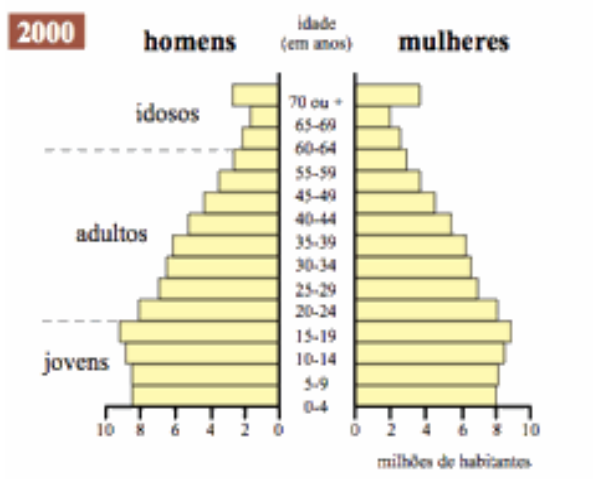
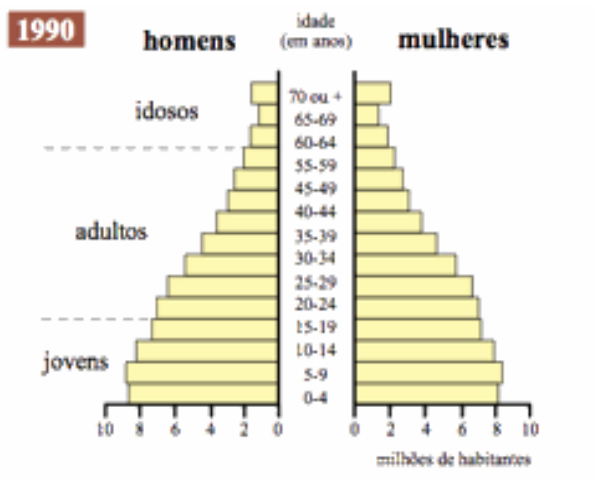
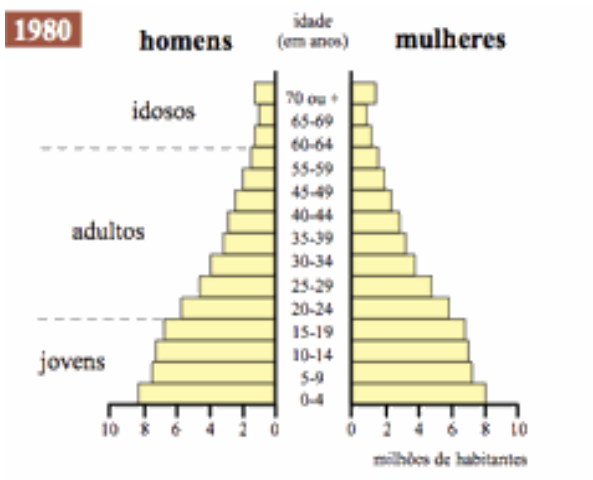
Questão 2. Embora o Brasil esteja colocado entre os países mais populosos do mundo, quando se relaciona sua população total com a área do país obtém-se um número relativamente baixo. A essa relação de população x área, damos o nome de:

- a) Taxa de crescimento.**
- b) Índice de desenvolvimento.**
- c) Densidade demográfica.**
- d) Taxa de natalidade.**
- e) Taxa de fertilidade.**

Questão 3.A população brasileira está distribuída de maneira irregular no território. A Região do Brasil que apresenta o maior número de habitantes é:

- a) Norte.**
- b) Sudeste.**
- c) Centro-Oeste.**
- d) Sul.**
- e) Nordeste.**

Questão 4. Analise os gráficos abaixo e responda a seguir:



Assinale a alternativa correta , após análise dos gráficos.

- A população brasileira está se tornando cada vez mais jovem.**
- A população brasileira está envelhecendo ao longo dos anos.**
- O número de idosos ultrapassará o de jovens até 2020.**
- A estrutura etária da população pouco tem mudado ao longo dos anos.**
- A população masculina predomina em relação à feminina.**